

CONCURSUL INTERJUDEȚEAN DE GEOGRAFIE
„TERRA – DE LA POVEȘTE LA REALITATE”
ETAPA JUDEȚEANĂ
Călărași, 9 mai 2026
Clasa a V-a

- Timpul efectiv de lucru este de 120 minute.
- Toate subiectele sunt obligatorii. Se acordă 10 puncte din oficiu.

Subiectul I (18 puncte)

Scrieți, pe foaia de concurs, litera corespunzătoare variantei corecte de răspuns:

1. Primele patru planete, în ordinea depărtării de Soare, sunt:
 - a. Marte, Mercur, Terra, Venus
 - b. Marte, Terra, Venus, Mercur
 - c. Mercur, Terra, Marte, Venus
 - d. Mercur, Venus, Terra, Marte
2. Dinspre Africa, pe teritoriul țării noastre poate pătrunde o masă de aer:
 - a. caldă și umedă
 - b. caldă și uscată
 - c. rece și umedă
 - d. rece și uscată
3. Cantitatea de săruri existente în apa mărilor sau a oceanelor reprezintă proprietatea apei numită:
 - a. culoare
 - b. densitate
 - c. salinitate
 - d. temperatură
4. Marea Mediterană este traversată de Meridianul de 0° longitudine în partea de:
 - a. est
 - b. nord
 - c. sud
 - d. vest
5. Curenții magmatici reprezintă o cauză a fragmentării scoarței terestre în:
 - a. diferite roci
 - b. platforme continentale
 - c. plăci tectonice
 - d. unități de relief
6. Grupările de stele, precum Carul Mare și Carul Mic, poartă denumirea de:
 - a. constelații
 - b. galaxii
 - c. găuri negre
 - d. nebuloase gazoase
7. Vegetația formată din maquis sau garriga este specifică zonei biogeografice:
 - a. mediteraneene
 - b. de stepă
 - c. de taiga
 - d. de tundră
8. Stratul atmosferic în care se produc majoritatea fenomenelor meteorologice se numește:
 - a. mezosferă
 - b. stratosferă
 - c. termosferă
 - d. troposferă
9. Ora oficială a României este, în timpul verii:
 - a. UTC+1
 - b. UTC+2
 - c. UTC+3
 - d. UTC+4

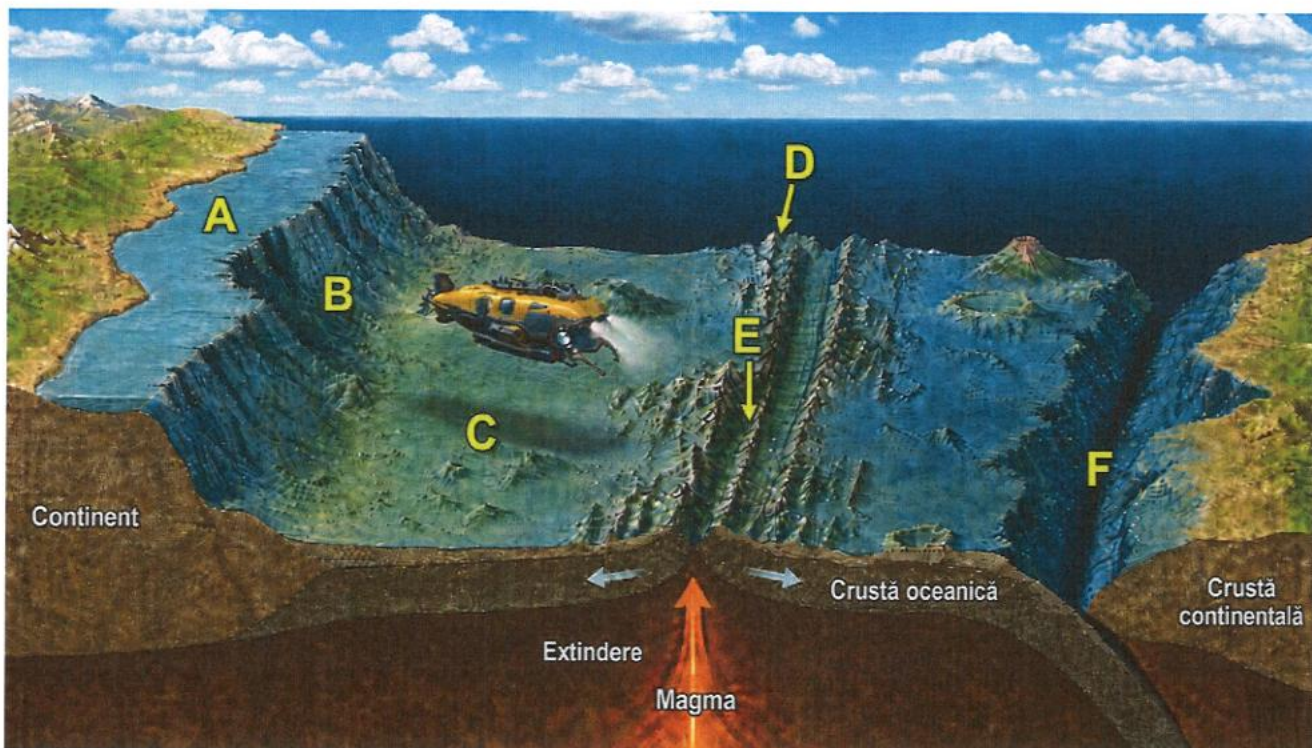
Subiectul II (12 puncte)

Citiți cu atenție afirmațiile următoare. Dacă apreciați că afirmația este adevărată, scrieți, pe foaia de concurs, litera A, iar dacă apreciați că afirmația este falsă, scrieți litera F, după modelul 10 - A sau 15 - F.

1. Suprafața mărilor și a oceanelor reprezintă nivelul de zero metri de la care se măsoară altitudinile și adâncimile.
2. Răspândirea viețuitoarelor pe Terra este în strânsă legătură cu latitudinea și cu altitudinea.
3. Marea Caspică s-a format prin acumularea apei în adâncituri ale scoarței terestre create de ghețari.
4. Vulcanul Vezuviu este un vulcan stins, care nu mai poate erupe niciodată.
5. Pe Terra există un singur tip de climă, iar vegetația și fauna sunt aceleași pe întreaga planetă.
6. Ghețarii fac parte din hidrosferă doar după ce se topesc și devin apă lichidă.

Subiectul III (22 puncte)

Analizați cu atenție imaginea de mai jos. Aceasta reprezintă călătoria unui submarin de la țărm până în cele mai adânci zone.



Citiți textul și rezolvați cerințele:

„Submarinul pleacă de la țărm, parcurgând o zonă puțin adâncă și lină (A). Brusc, fundul oceanului coboară abrupt sub formă de treaptă (B). Ajungem apoi pe un fel de câmpie imensă și întunecată (C), întreruptă din loc în loc de un lanț muntos uriaș care străbate mijlocul oceanului (D), dar care are în mijloc o crăpătură imensă (E). La final, submarinul coboară într-o depresiune foarte îngustă și extrem de adâncă (F).”

Precizați:

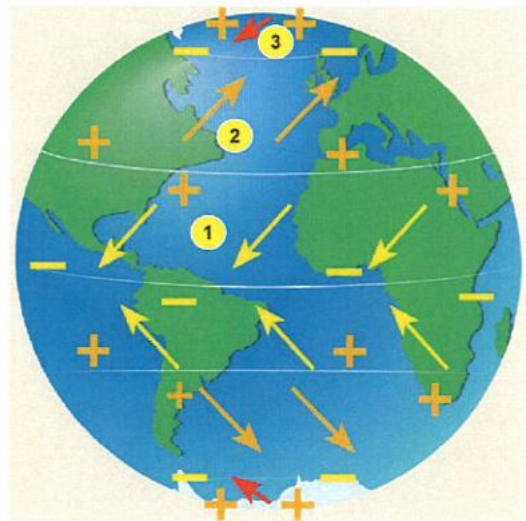
1. numele formelor de relief notate, pe desen, cu literele A, B, C, D, E și F.
2. o cauză care a determinat apariția formei marcate cu litera E.
3. denumirea fenomenului specific contactului dintre plăcile tectonice în cazul formei marcate pe desen cu litera F.
4. două efecte asociate contactelor dintre plăcile tectonice.
5. un argument pentru a explica importanța economică a formei de relief marcate cu litera A.

Subiectul IV (14 puncte)

Analizați imaginea alăturată. Cu săgeți sunt reprezentate o serie de vânturi.

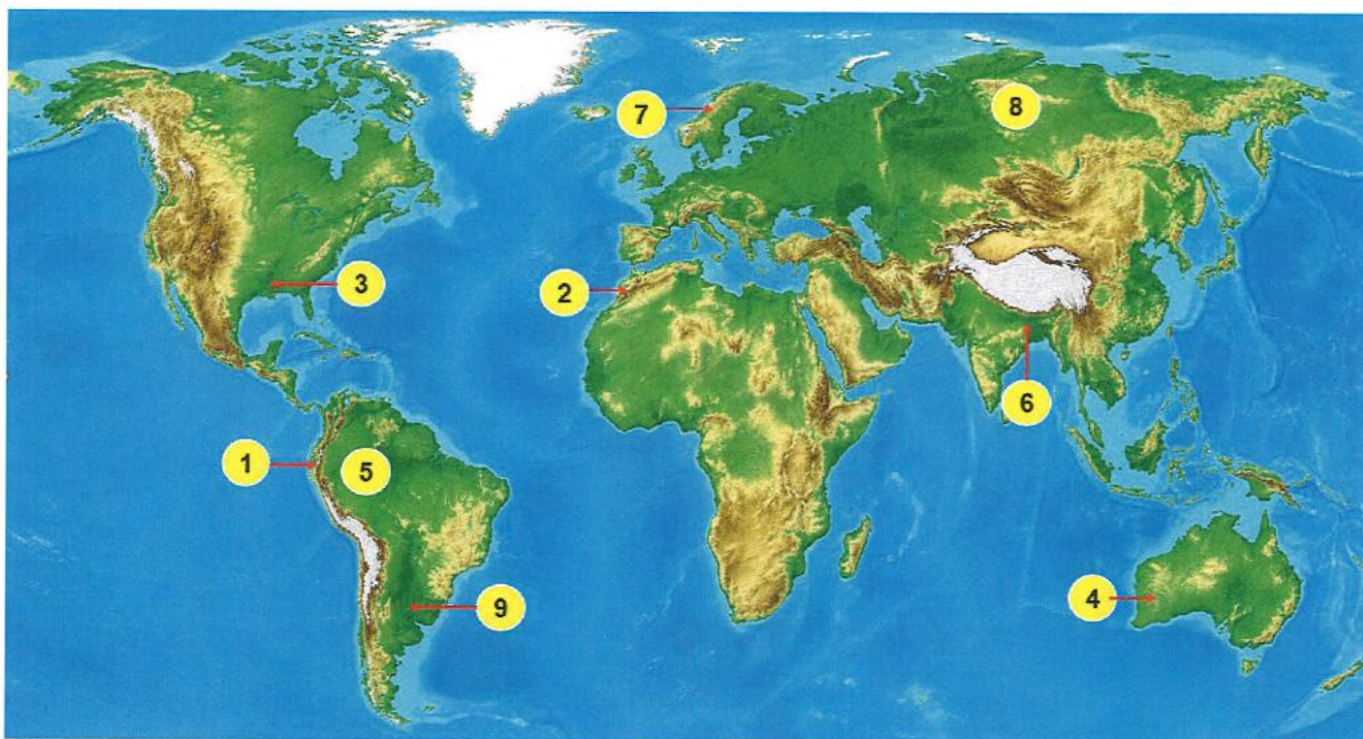
Precizați:

1. Denumirea fiecăruia dintre vânturile specifice zonelor marcate cu cifrele 1, 2, 3.
2. Categoria sau tipul acestor vânturi.
3. Factorul principal care determină apariția acestor vânturi.
4. Modul în care ar fi afectată direcția acestor vânturi dacă Pământul nu ar avea mișcare de rotație.
5. Un efect asupra climei Europei de Vest determinat de vântul care bate în zona marcată cu cifra 2.



Subiectul V (24 de puncte)

Pe planiglobul de mai jos sunt marcate, cu cifre de la 1 la 9, unități majore de relief. Analizați harta și scrieți, pe foaia de concurs, răspunsurile corecte la următoarele cerințe:



1. Numele unităților de relief marcate, pe hartă, cu cifrele 1, 2, 3, 4, 5, 6, 7, 8 și 9.
2. Orogeneza în care s-a format unitatea marcată cu cifra 2.
3. Tipul de țărm specific vestului unității de relief marcate cu cifra 7.
4. Modul în care se manifestă vântul periodic care influențează clima unității de relief marcate cu cifra 6, precum și un factor care contribuie la formarea acestui vânt.
5. Tipul de climă specific unităților de relief marcate cu cifrele 4, 5 și 6.
6. Un argument pentru a explica de ce, în unitatea de relief marcată cu cifra 5, există un singur anotimp.

Total punctaj: 90 puncte. Se acordă din oficiu 10 puncte. Total: 100 puncte

Mulțumim pentru participare!

CONCURSUL INTERJUDEȚEAN DE GEOGRAFIE
„TERRA – DE LA POVESTE LA REALITATE”
ETAPA JUDEȚEANĂ
Călărași, 9 mai 2026
Clasa a VI-a

- Timpul efectiv de lucru este de 120 minute.
- Toate subiectele sunt obligatorii. Se acordă 10 puncte din oficiu.

Subiectul I**(30 puncte)**

Scrie, pe foaia de concurs, litera corespunzătoare răspunsului corect pentru fiecare dintre afirmațiile de mai jos:

1. Este situată în Marea Neagră peninsula:
a) Balcanică b) Crimeea c) Iutlanda d) Peloponez
2. Dintre munții de mai jos, situați la granița Spaniei cu Franța, sunt munții:
a) Alpi b) Apenini c) Penini d) Pirinei
3. Din punct de vedere al poziției geografice, Cipru este un stat:
a) continental b) continental-peninsular c) insular d) peninsular
4. Canalul Corint străbate nordul Peninsulei:
a) Balcanice b) Italice c) Peloponez d) Scandinave
5. Lacul Balaton este, după modul de formare, un lac:
a) de acumulare b) glaciatic c) tectonic d) vulcanic
6. Mineritul și agricultura sunt activități specifice sectorului:
a) cuaternar b) primar c) secundar d) terțiar
7. Iurta este o locuință construită din piei de animale, specifică în centrul continentului:
a) Africa b) America c) Asia d) Europa
8. După poziția geografică, Germania face parte din:
a) Europa Centrală b) Europa Estică c) Europa Nordică d) Europa Vestică
9. Un fluviu care se varsă în Marea Mediterană este:
a) Don b) Ebru c) Rin d) Sena
10. În Arhipelagul Marii Britanii este specifică clima:
a) mediteraneeană b) polară c) temperat-continentală d) temperat-oceanică
11. Al doilea cel mai populat stat european este:
a) Federația Rusă b) Franța c) Germania d) Marea Britanie
12. În bazinul Ruhr din Germania se extrag resurse de:
a) cărbuni b) gaze naturale c) minereu de fier d) petrol
13. În zona biogeografică de tundră din Europa, vegetația specifică este formată din:
a) brad, molid, pin b) fag, stejar, frasin c) pin, tuia, cedru d) salcie-polară, mesteacăn-pitic
14. Cultura măslinului este specifică statului:
a) Elveția b) Germania c) Spania d) Ucraina
15. După forma de guvernământ, **NU** este o monarhie:
a) Belgia b) Danemarca c) Elveția d) Spania

Subiectul II**(30 puncte)**

Citiți cu atenție afirmațiile următoare. Dacă apreciați că afirmația este adevărată, scrieți pe foaia de concurs litera A, iar dacă apreciați că afirmația este falsă, scrieți litera F, după modelul 15 – A sau 15 – F.

1. Munții Scandinaviei s-au format în orogeneza hercinică.
2. Țărmlul marin înalt, abrupt, însoțit de insule prelungi, paralele cu țărmul este specific Croației.
3. Fluviile Peciora și Volga se varsă în Oceanul Arctic.
4. La est, limita Europei față de Asia este dată de Munții Ural.
5. Statul Muntenegru este situat în Peninsula Balcanică.
6. Satele risipite sunt specifice zonei de munte.
7. Câmpia Padului este o câmpie veche, de eroziune.
8. Sericicultura este o ramură a agriculturii care se ocupă cu creșterea viermilor de mătase.
9. Lacurile Ladoga și Onega sunt lacuri glaciare de calotă.
10. Marea Mediterană comunică cu Oceanul Atlantic prin Strâmtoarea Calais.
11. Orașele cu peste un milion de locuitori sunt cunoscute sub numele de megalopolisuri.
12. Solurile terra rossa, se găsesc în zona mediteraneeană.
13. Parcul eolian Hornsea Project 2, cel mai mare din Europa, se află în Regatul Unit.
14. În Albania predomină religia protestantă.
15. Polonia este un stat al Uniunii Europene în care se vorbește o limbă slavă.

Subiectul III**5 puncte**

Scrieți, pe foaia de concurs, asocierile corecte dintre activitățile umane ilustrate în imaginile prezentate în coloana A (marcate cu litere de la a la e), efectele negative asupra mediului înconjurător menționate în coloana B și soluțiile necesare pentru protejarea planetei precizate în coloana C (după modelul f-7-VI).

A**B****C**

1. Scăderea calității aerului și boli respiratorii

I. Reciclarea



2. Contaminarea apelor și moartea faunei acvatice

II. Transport verde (biciclete, troleibuze)



3. Defrișări și distrugerea mediului de viață al animalelor

III. Montarea filtrelor moderne la coșurile industriale



4. Poluarea fonică (zgomot) și acumularea gazelor de eșapament în aer

IV. Agricultură ecologică



5. Poluarea solului și a pânzei freatice

V. Reîmpădurirea

Subiectul IV

10 puncte

1. Centrala mareomotrică transformă energia mareelor (flux și reflux) în energie electrică.

Precizați:



- un avantaj și un dezavantaj al utilizării acesteia;
- o condiție de amplasare a unei centrale mareomotrice;
- numele țării în care se află cea mai puternică centrală mareomotrică din lume.

2. Islanda, cea mai mare insulă vulcanică a Terrei, este situată în nordul Oceanului Atlantic.

Precizați:

- o cauză a prezenței vulcanilor activi în Islanda;
- numele unui vulcan din această insulă;
- o resursă naturală asociată vulcanismului.

Subiectul V**15 puncte****Analizați imaginile marcate cu cifrele 1, 2 și 3.****Precizați:**

1. Tipul de formațiune vegetală existent în imaginile notate cu 1, 2, 3.
2. Climatul specific fiecărei regiuni reprezentate în imaginile de mai jos.
3. Tipul de sol specific fiecărei regiuni reprezentate în imaginile de mai jos.



1



2



3

Total punctaj: 90 puncte. Se acordă din oficiu 10 puncte. Total: 100 puncte

Mulțumim pentru participare!



CONCURSUL ȘCOLAR INTERJUDEȚEAN DE GEOGRAFIE
„TERRA – DE LA POVESTE LA REALITATE”,
ETAPA JUDEȚEANĂ – 9 MAI 2026,
Județul Călărași
CLASA a VII-a

Timpul de lucru este de 120 de minute.

Toate subiectele sunt obligatorii. Se acordă 10 puncte din oficiu.

SUBIECTUL I (20 puncte)

A. Scrieți, pe foaia de concurs, litera corespunzătoare răspunsului corect:

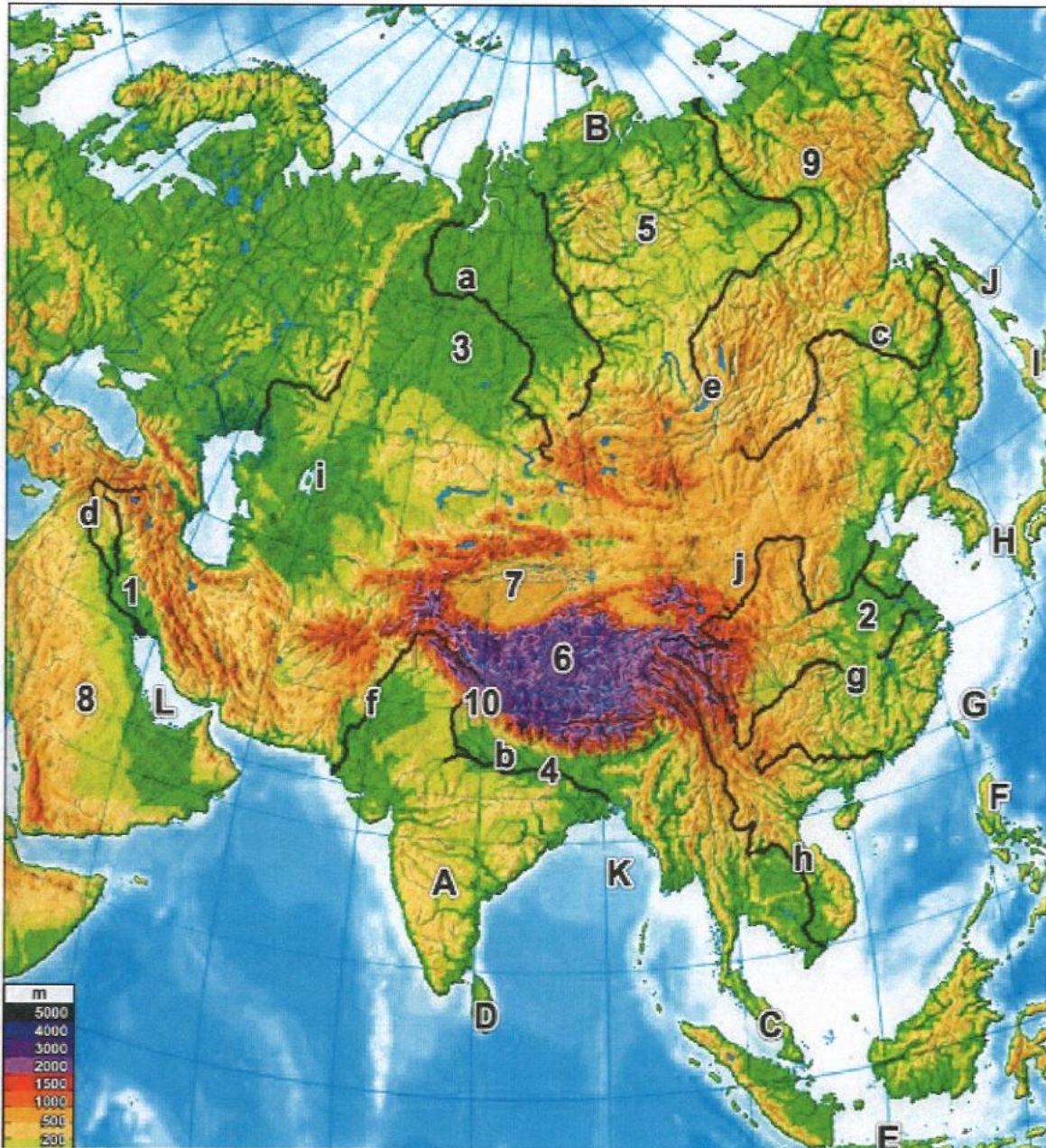
1. Statul african mărginit de două oceane este:
a) Algeria b) Egipt c) Kenya d) Republica Africa de Sud
2. Cea mai mare câmpie aluvială formată de Gange și Brahmaputra se află în:
a) Bangladesh b) Pakistan c) Myanmar d) Nepal
3. Un mare golf al Oceanului Indian, important pentru climatul musonic, este:
a) Golful Aden b) Golful Bengal c) Golful Oman d) Golful Persic
4. Fluviul Zambezi formează spectaculoasele cascade:
a) Angel b) Iguazu c) Niagara d) Victoria
5. Cea mai activă zonă seismică a Asiei se află în jurul:
a) Arhipelagului Japonez b) Câmpiei Siberiei de Vest c) Peninsulei Arabia d) Podișului Deccan

B. Citiți cu atenție afirmațiile următoare. Dacă apreciați că afirmația este adevărată, scrieți, pe foaia de concurs, litera A, iar dacă apreciați că afirmația este falsă, scrieți litera F, după modelul 10 – A sau 15 – F.

1. Deșertul Namib este un deșert litoral format sub influența curentului rece Benguela.
2. Podișul Tibet este cea mai înaltă și întinsă regiune de podiș de pe Glob.
3. Fluviul Niger se varsă în Marea Roșie.
4. Peninsula Indochina aparține sud-estului Asiei.
5. Riftul Est-African este o unitate tectonică aflată în formare.

SUBIECTUL II (20 puncte)

Analizați harta de mai jos.

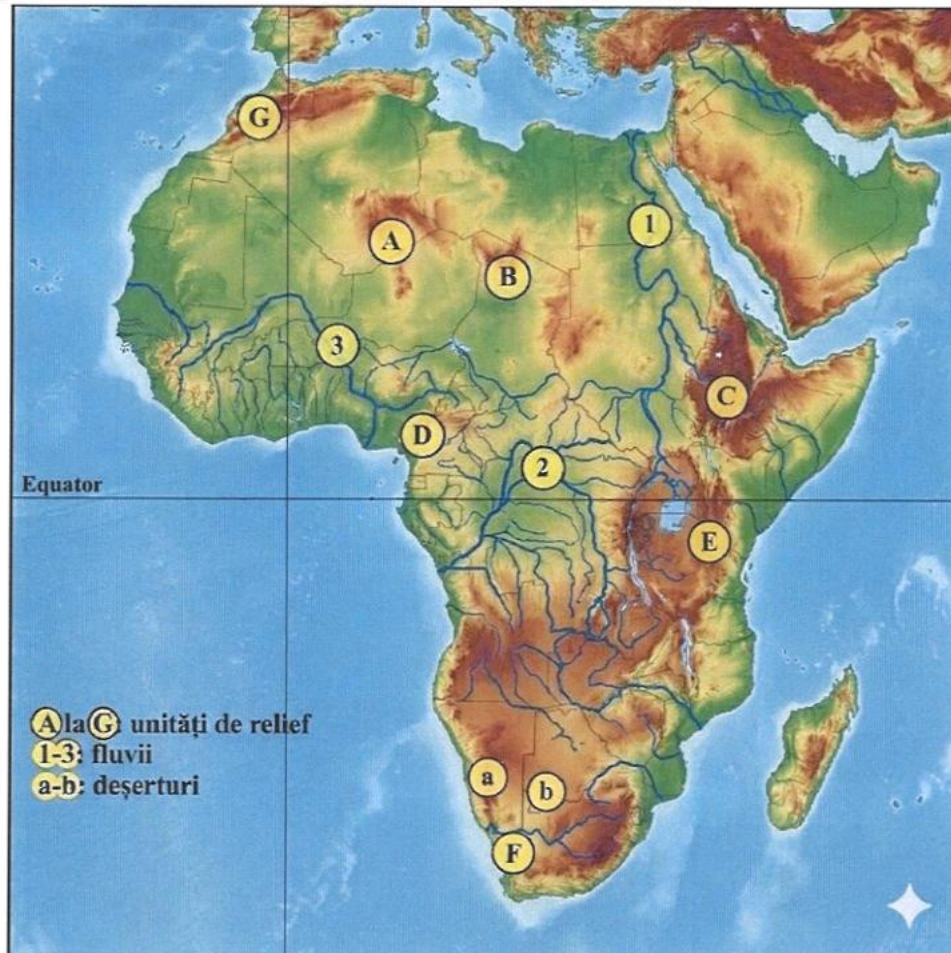
**Precizați:**

1. numele peninsulelor notate pe hartă cu literele B și C;
2. statele pe teritoriul cărora se află lacul notat pe hartă cu litera i;
3. numele insulelor notate pe hartă cu literele J și I;
4. două hazarduri naturale care pot să apară în insula notată pe hartă cu litera E;
5. două state traversate de râul marcat pe hartă cu litera h;
6. litera cu care este notată, pe hartă, insula Luzon, care aparține statului Filipine;
7. numele mării în care se varsă fluviul notat pe hartă cu litera j;

8. două tipuri de vegetație și două tipuri de climă din câmpia notată pe hartă cu cifra 3;
9. numele deșerturilor notate pe hartă cu cifrele 7 și 8;
10. o deosebire cu privire la clima unității de relief marcate cu cifra 4 și clima unității de relief notată pe hartă cu cifra 1.

SUBIECTUL III (15 puncte)

Pe harta de mai jos sunt notate elemente ale cadrului natural din Africa.



A. Scrieți pe foaia de concurs:

1. numele unităților de relief notate pe hartă cu literele C și F;
2. trei țări traversate de fluviul notat pe hartă cu cifra 3;
3. numele deșertului pe suprafața căruia se află unitățile de relief notate cu literele A și B;
4. tipul de climă corespunzător arealului/regiunii prin care curge fluviul notat pe hartă cu cifra 2.

B. Citiți textul de mai jos și scrieți pe foaia de concurs răspunsurile la următoarele întrebări:


„În 1889, geograful german Hans Meyer și alpinistul austriac Ludwig Purtscheller au devenit primii oameni care au ajuns pe acest stratovolcan înalt de 5895 m. De atunci, acesta a devenit un loc popular de drumeții pentru localnici și turiști, chiar dacă riscul de a căpăta rău de înălțime este foarte mare...”

Sursa: <https://www.nationalgeographic.com/>

1. Denumirea vulcanului prezentat în text.
2. Litera cu care este marcat, pe hartă, vulcanul descris în text.
3. O cauză a formării acestui vulcan.
4. Un efect vizibil în peisajul vulcanului, determinat de altitudinea de peste 5000 m.


SUBIECTUL IV (19 puncte)

A. Imaginile de mai jos reprezintă culturi agricole cu o importanță economică deosebită pentru unele state asiatice. Precizați:



1. denumirea culturilor la care fac referire cele două imagini, A și B;
2. pentru fiecare cultură agricolă, câte două state pentru care aceste culturi sunt importante.

B. În imaginile de mai jos sunt prezentate aspecte ale unor religii din Asia. Precizați:



1. religia corespunzătoare fiecărei imagini, notate cu literele a, b, c, d;
2. numele unei țări în care se practică religia surprinsă în imaginea notată cu litera a;
3. numele orașului sfânt pentru religia asociată cu imaginea marcată cu litera a.

**SUBIECTUL V (16 puncte)**

Scrieți, pe foaia de concurs, răspunsurile pentru următoarele cerințe:

1. În tabelul de mai jos sunt înscrise valorile precipitațiilor medii lunare înregistrate în orașul Cherrapunji din nordul Indiei.

- Precizați tipul de climă specific pentru această localitate.
- Precizați un argument pentru a explica cantitatea mare de precipitații.
- Precizați o cauză a cantității reduse de precipitații în anotimpul de „iarnă”.

Luna	I	II	III	IV	V	VI	VII	VIII	IX	X	XI	XII
Precip. (mm)	11	46	240	938	1214	2294	3272	1760	1352	549	72	29

2. Precizați:

- două tipuri de climă corespunzătoare unor regiuni pe care fluviul Nil le străbate de la izvor spre vărsare;
- un fluviu care străbate Câmpia Mozambicului;
- două caracteristici ale vegetației dezvoltate pe suprafața Câmpiei Mozambicului;
- numele unei vechi populații care locuiește în pădurile ecuatoriale din bazinul hidrografic al fluviului Congo.

TOTAL: 90 de puncte. Se acordă 10 puncte din oficiu. TOTAL GENERAL: 100 de puncte.

Mulțumim pentru participare!